

Umfang

Miss die Seiten ab.

Umfahre den Umfang mit deiner Lieblingsfarbe.

Beschrifte die Seiten.

Achte darauf, dass deine Formel zu deiner Rechnung passt!

Denke an unseren Spruch: Am Samstag fliegen Regen-Mus-Dosen.

a = _____
b = _____
u = ?




Formel:


u = _____

u = _____

Das ist ein Rechteck Quadrat Quader.

Das war    für mich.

a = _____
u = ?




Formel:

u = _____

u = _____

Das ist ein Rechteck Quadrat Quader.

Das war    für mich.

x = 90 m
y = 150 m

u = ?

Das ist ein Rechteck Quadrat Quader.

Das war    für mich.

