








# Rechnen wie die Ägypter

Die Ägypter haben für Zahlen Hieroglyphen verwendet.  
So sahen sie aus:



1	2	3	4	5	6	7	8	9	
LABBÉ									
10	100	1.000	10.000	100.000	1.000.000				
									
LABBÉ	LABBÉ	LABBÉ	LABBÉ	LABBÉ	LABBÉ				

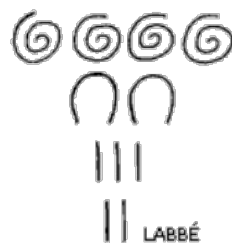
Den Ägyptern war es egal, in welche Richtung man schrieb. 425 konnte also so geschrieben werden...



... oder so...



... oder so...



... oder auch so:



# Rechnen wie die Ägypter



Wie heißt die Zahl in unserer Schrift?

IIII IIII \_\_\_\_\_

\_\_\_\_\_

\_\_\_\_\_

\_\_\_\_\_

\_\_\_\_\_

\_\_\_\_\_

\_\_\_\_\_

\_\_\_\_\_

\_\_\_\_\_

\_\_\_\_\_

\_\_\_\_\_

\_\_\_\_\_

\_\_\_\_\_

\_\_\_\_\_

In welches Symbol kann ich tauschen?

= \_\_\_\_\_

= \_\_\_\_\_

= \_\_\_\_\_

= \_\_\_\_\_

= \_\_\_\_\_

# Rechnen wie die Ägypter



Zeichne die Zahl in ägyptischer Schrift!

11 \_\_\_\_\_

111 \_\_\_\_\_

1.111 \_\_\_\_\_

429 \_\_\_\_\_

780 \_\_\_\_\_

63 \_\_\_\_\_

99 \_\_\_\_\_

---

Nimm deine Lieblingszahl und versuche sie in möglichst verschiedenen Arten zu zeichnen (siehe Blatt 1)