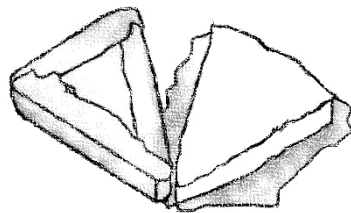


Schlussrechnungen für schlaue Eulen



Eine Streichkäsecke wiegt 32g.

Wie viel wiegt dann die ganze Packung mit 8 Streichkäsecken?



Schlussrechnungen für schlaue Eulen



Der Friseur Robert hat diese Woche nur 12 Stunden gearbeitet.

Dafür hat er insgesamt 132€ verdient.

Wie viel hat er in der Stunde verdient?





Schlussrechnungen für schlaue Eulen

Ein Maler verdient in einer Woche 480€.

Er arbeitet dann in einer Woche 40h.


Wie viel würde er verdienen, wenn er nur mehr 35h je Woche arbeiten würde?



Schlussrechnungen für schlaue Eulen

Für 9kg Bananen zahlt Susanne 17€ 55c.

Wie viel würde sie für 15kg bezahlen?

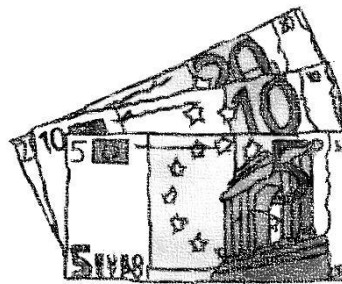




Schlussrechnungen für schlaue Eulen

114 Liter Diesel kosten 57€.

Wie viel kosten 70l Diesel?



Schlussrechnungen für schlaue Eulen

In einer Waschanlage werden montags 32
Autos gewaschen.

Dafür kassiert die Tankstellenbetreiberin 224€.


Wie viel wird eingenommen, wenn am Dienstag
noch 57 Autos gewaschen werden?





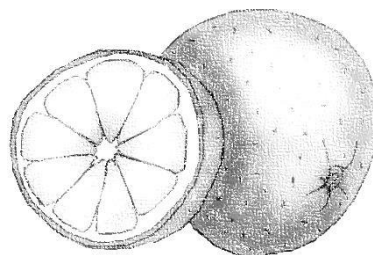
Schlussrechnungen für schlaue Eulen

Eine Sportschule hat 17 Bälle gekauft.
Dafür mussten 204€ bezahlt werden.
Wie viel würden 65 Bälle kosten?



Schlussrechnungen für schlaue Eulen

4kg Orangen kosten 8€ 40c.
Wie viel kosten 15kg?





Schlussrechnungen für schlaue Eulen

17 Glühbirnen kosten bei der Firma Lampe & Co 68€.

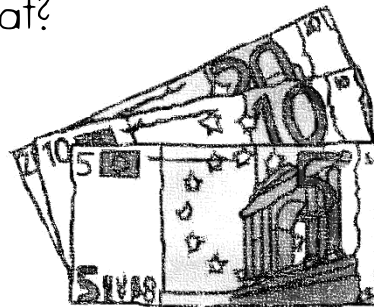
Wie viel kosten 25 Glühbirnen.



Schlussrechnungen für schlaue Eulen

Eine Packung Waffeln kostet 70c.

Wie viele Packungen hat Fritz gekauft, wenn er 30€ 10c bezahlt hat?



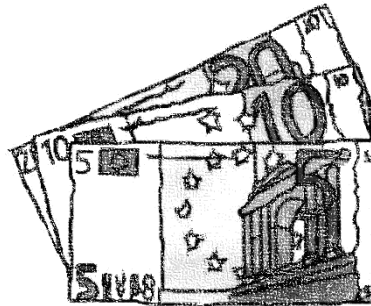


Schlussrechnungen für schlaue Eulen

Anton hat in den Ferien 1 377€ verdient.

Je Stunde hat er 9€ bekommen.

Wie viele Stunden hat er in den Ferien gearbeitet?



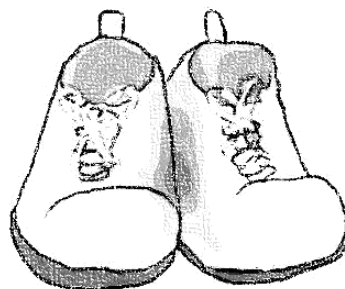
Schlussrechnungen für schlaue Eulen

In einem Schuhgeschäft werden an einem Tag

79 Schuhpaare für 1 975€ verkauft.

Es sind noch 36 Paare im Geschäft.

Wie viel sind die übrigen Schuhe wert?






Schlussrechnungen für schlaue Eulen

Ein LKW hat 2t 6kg Staubzucker geladen.

Der Zucker ist in 34 Säcke verpackt.


Wie viel kg hat ein LKW geladen,
der 67 Zuckersäcke transportiert?



Schlussrechnungen für schlaue Eulen

An einer Baustelle arbeiten 10 Handwerkerinnen
und 14 Handwerker insgesamt 134 Tage.

Wie lange hätten 8 Arbeiter gebraucht?

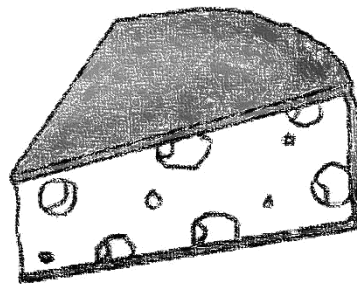




Schlussrechnungen für schlaue Eulen

Das Gewicht von 12 Emmentaler-Käseecken beträgt 4dag 8g.

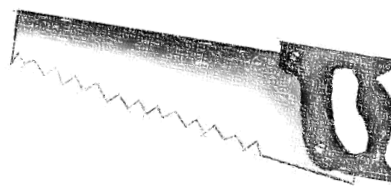
Wie viel wiegen 17 Ecken?



Schlussrechnungen für schlaue Eulen

Eine Tischlerin erhält einen Stundenlohn von 13€.

Wie viel verdient sie in einer 40-Stunden-Woche?






Schlussrechnungen für schlaue Eulen

In einem Holzfass sind 95l Essig gelagert.

So ein Fass kostet 190€.

Um wie viel € muss ein Liter Essig verkauft werden, damit der Fasspreis genau erreicht wird?



Schlussrechnungen für schlaue Eulen

Für eine Schule werden Setzleisten

hergestellt. Eine Leiste soll 85cm lang sein.

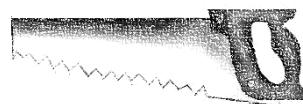
Für die ganze Schule werden 67 Leisten

benötigt. Wie viel Meter Holz müssen

eingekauft werden? Runde auf ganze Meter!

Wie viel muss bezahlt werden, wenn 1m Holz

5€ kostet?





Schlussrechnungen für schlaue Eulen

Herr und Frau Stieß haben 4 Kinder. Beim Campingurlaub bezahlen sie pro Erwachsenen für einen Tag 54€.

Kinder bezahlen nur die Hälfte.

Wie viel muss die Familie für eine ganze Woche bezahlen?




Schlussrechnungen für schlaue Eulen

Ein Liter Diesel kostet 1€ 40c.

Gabriele und Günther tanken ihren Reisebus mit 75 l voll.

Wie viel müssen sie bezahlen?






Schlussrechnungen für schlaue Eulen

Marius würde für das Fliesen seines Pools alleine 672 Stunden brauchen. Es halfen ihm aber ein paar Leute und der Pool war in 56 Stunden fertig.

Wie viele Leute haben geholfen?

Achtung: Marius hat auch mitgearbeitet!



Schlussrechnungen für schlaue Eulen

Ein LKW hat 3 450kg Zementpulver geladen.
Das Pulver ist in Säcken zu je 50kg verpackt.
Wie viele Säcke hat der LKW geladen?

