

Probleme lösen



www.lernfrosch.at

Schreibe die Zahlenfolgen in dein Heft.
Deine Lösungen schreibe mit Farbe.
Finde die fehlenden Zahlen.



___ ___ 15 18 21 24 ___ ___
___ ___ 12 24 48 96 ___ ___

www.lernfrosch.at

Schreibe die Aufgaben in dein Heft.
Deine Lösungen schreibe mit Farbe.
Finde die fehlenden Zahlen.



$$108 : \underline{\quad\quad} = 54$$

$$72 : \underline{\quad\quad} = 24$$

www.lernfrosch.at


Schreibe die Aufgaben in dein Heft.
Deine Lösungen schreibe mit Farbe.
Finde die Lösung.



Marie hat 23€ in ihrer Börse. Es sind 3 Scheine und 7 Münzen.

--	--	--	--	--	--	--	--	--	--


www.lernfrosch.at



Schreibe die Aufgaben in dein Heft.
Deine Lösungen schreibe mit Farbe.
Finde die fehlenden Rechenzeichen.


$$40 \cdot 2 > 15 _ 2$$

$$22 \cdot 2 > 30 _ 20$$




Schreibe die Angabe in dein Heft.
Deine Lösungen schreibe mit Farbe.
Finde alle passenden Zahlen.

*Welche Zahlen kannst du mit diesen Ziffern schreiben,
die größer als 4000 sind?*



Schreibe die Angabe in dein Heft.
Deine Lösungen schreibe mit Farbe.
Finde die Lösung.

*Max und Moritz sind zusammen 20 Jahre alt.
Max ist aber 2 Jahre älter.
Wie alt sind die Buben?*



Schreibe die Angabe in dein Heft.
Deine Lösungen schreibe mit Farbe.
Finde die Lösung.

*Sandra und Matthias wohnen 2 600 m von einander entfernt. Sie fahren
einander mit dem Rad entgegen, aber Sandra fährt 400m weiter. Wie weit
fahren die Kinder?*

Schreibe die Aufgabe in dein Heft.
Deine Lösungen schreibe mit Farbe.
Finde die Lösung.



*Alle 83 Kinder der Schule haben einen Brief geschickt.
24 Kinder haben eine Antwort bekommen.
Wie viele haben keine Antwort bekommen?*

www.lernfrosch.at

Schreibe die Angabe in dein Heft.
Deine Lösungen schreibe mit Farbe.
Finde die Lösung.



Lege 50 Cent aus genau zehn Münzen. Du hast folgende Münzen zur Verfügung. Von jeder Münzsorte muss mindestens eine Münze verwendet werden!



www.lernfrosch.at

Schreibe die Angabe in dein Heft.
Deine Lösungen schreibe mit Farbe.
Finde die Lösung.



*Ein Rechteck hat eine Länge von 10 cm. Der Umfang beträgt 28 cm.
Wie breit ist das Rechteck?*

www.lernfrosch.at

Schreibe die Angabe in dein Heft.
Deine Lösungen schreibe mit Farbe.
Finde die Lösung.



Sarah geht von ihrem Haus zur Oma. Der Weg ist 800m lang. Zuerst geht sie am Kino und dann am Park vorbei. Die Strecke von Haus bis zum Kino ist 450m lang. Kino und Park sind nur 150m von einander entfernt. Wie lang ist die Strecke zwischen dem Park und dem Haus von Oma?

www.lernfrosch.at



Schreibe die Aufgabe in dein Heft.
Deine Lösungen schreibe mit Farbe.
Finde die Lösung.

*In Momos Kindergarten haben 8 Kinder einen Hund und 4 Kinder einen Hasen.
Davon haben 3 Kinder einen Hund und auch einen Hasen. 15 Kinder haben gar
kein Haustier.
Wie viele Kinder sind in dem Kindergarten?*

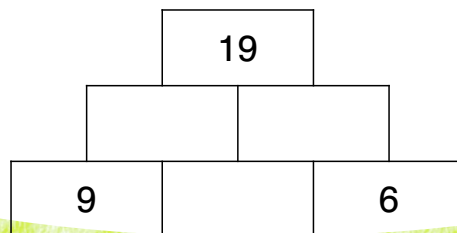


Schreibe die Angabe in dein Heft.
Deine Lösungen schreibe mit Farbe.
Finde die Lösung.

*Ein Rechteck hat eine Länge von 8 cm. Der Umfang beträgt 28 cm.
Wie breit ist das Rechteck?*

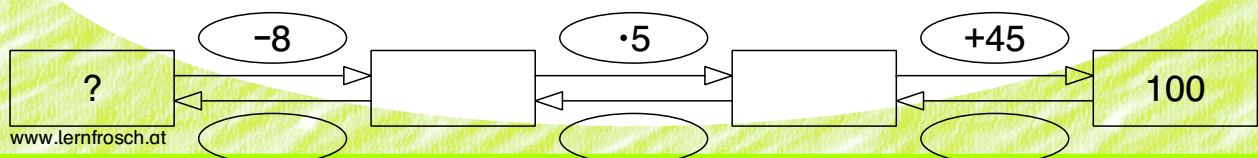


Schreibe die Angabe in dein Heft.
Deine Lösungen schreibe mit Farbe.
Finde die Lösung.



Schreibe die Angabe in dein Heft.
Deine Lösungen schreibe mit Farbe.
Finde die Lösung.

*Ich denke mir eine Zahl und subtrahiere 8,
multipliziere dann das Ergebnis mit 5,
addiere anschließend 45 und erhalte die Zahl 100.*



Schreibe die Aufgabe in dein Heft.
Deine Lösungen schreibe mit Farbe.
Finde die Lösung.



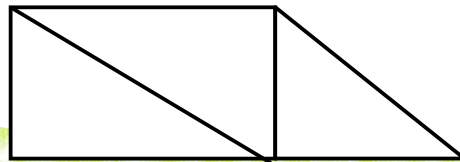
*Addiere alle Zahlen von 1 bis 40.
Überlege dir einen guten Rechenweg.*

www.lernfrosch.at

Schreibe die Angabe in dein Heft.
Deine Lösungen schreibe mit Farbe.
Finde die Lösung.



Wie viele Dreiecke und Vierecke findest du? Zeichne und schreibe ins Heft!



www.lernfrosch.at

Schreibe die Angabe in dein Heft.
Deine Lösungen schreibe mit Farbe.
Finde die Lösung.



Wie viele Zahlen kannst du mit diesen Ziffern legen?



www.lernfrosch.at