
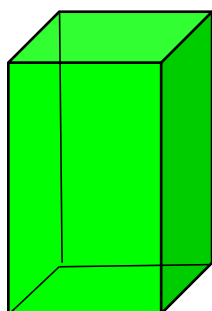
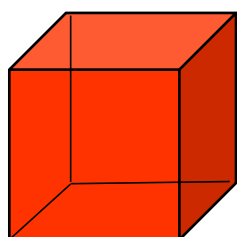


# Geometrische Körper 1

1. Wie heißen diese geometrischen Körper? Ordne die Namen richtig zu:

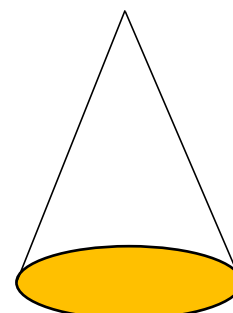
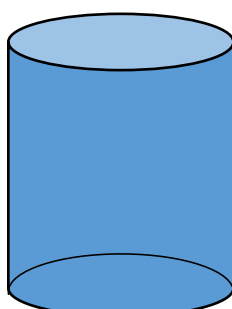
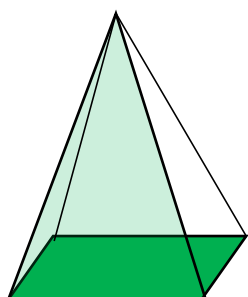
Pyramide Kugel Quader Würfel Kegel Zylinder



Name:	
Ecken:	
Flächen:	
Kanten:	

Name:	
Ecken:	
Flächen:	
Kanten:	

Name:	
Ecken:	
Flächen:	
Kanten:	



Name:	
Ecken:	
Flächen:	
Kanten:	

Name:	
Ecken:	
Flächen:	
Kanten:	

Name:	
Ecken:	
Flächen:	
Kanten:	

2. Markiere die Ecken jedes Körpers mit einem roten Punkt.

3. Zähle die Ecken, Flächen und Kanten jedes Körpers.