





Flink wie die Mäuse



Schnelles Rechnen Das kleine Einmaleins



Bitte vorher immer eintragen, wie viele Minuten Zeit vorgegeben sind.

Illustrationen: educlips

www.mathemonsterchen.de



Die „Königs“- Aufgaben (1)



$1 \cdot 1 = \underline{\quad}$	$1 \cdot 2 = \underline{\quad}$	$1 \cdot 3 = \underline{\quad}$	$1 \cdot 4 = \underline{\quad}$
$2 \cdot 1 = \underline{\quad}$	$2 \cdot 2 = \underline{\quad}$	$2 \cdot 3 = \underline{\quad}$	$2 \cdot 4 = \underline{\quad}$
$5 \cdot 1 = \underline{\quad}$	$5 \cdot 2 = \underline{\quad}$	$5 \cdot 3 = \underline{\quad}$	$5 \cdot 4 = \underline{\quad}$
$10 \cdot 1 = \underline{\quad}$	$10 \cdot 2 = \underline{\quad}$	$10 \cdot 3 = \underline{\quad}$	$10 \cdot 4 = \underline{\quad}$
$1 \cdot 5 = \underline{\quad}$	$1 \cdot 6 = \underline{\quad}$	$1 \cdot 7 = \underline{\quad}$	$1 \cdot 8 = \underline{\quad}$
$2 \cdot 5 = \underline{\quad}$	$2 \cdot 6 = \underline{\quad}$	$2 \cdot 7 = \underline{\quad}$	$2 \cdot 8 = \underline{\quad}$
$5 \cdot 5 = \underline{\quad}$	$5 \cdot 6 = \underline{\quad}$	$5 \cdot 7 = \underline{\quad}$	$5 \cdot 8 = \underline{\quad}$
$10 \cdot 5 = \underline{\quad}$	$10 \cdot 6 = \underline{\quad}$	$10 \cdot 7 = \underline{\quad}$	$10 \cdot 8 = \underline{\quad}$
	$1 \cdot 9 = \underline{\quad}$	$1 \cdot 10 = \underline{\quad}$	
	$2 \cdot 9 = \underline{\quad}$	$2 \cdot 10 = \underline{\quad}$	
	$5 \cdot 9 = \underline{\quad}$	$5 \cdot 10 = \underline{\quad}$	
	$10 \cdot 9 = \underline{\quad}$	$10 \cdot 10 = \underline{\quad}$	

Ich habe in Minuten Aufgaben geschafft.

Das finde ich:



www.mathemonsterchen.de



Die „Königs“- Aufgaben (2)



1

$$5 \cdot 6 = \underline{\quad}$$

$$2 \cdot 8 = \underline{\quad}$$

$$5 \cdot 1 = \underline{\quad}$$

$$2 \cdot 3 = \underline{\quad}$$

$$10 \cdot 4 = \underline{\quad}$$

$$10 \cdot 8 = \underline{\quad}$$

2

$$5 \cdot 2 = \underline{\quad}$$

$$1 \cdot 5 = \underline{\quad}$$

$$10 \cdot 6 = \underline{\quad}$$

$$1 \cdot 2 = \underline{\quad}$$

$$5 \cdot 8 = \underline{\quad}$$

$$1 \cdot 9 = \underline{\quad}$$

3

$$10 \cdot 3 = \underline{\quad}$$

$$1 \cdot 7 = \underline{\quad}$$

$$2 \cdot 1 = \underline{\quad}$$

$$5 \cdot 7 = \underline{\quad}$$

$$10 \cdot 5 = \underline{\quad}$$

$$2 \cdot 9 = \underline{\quad}$$

4

$$2 \cdot 5 = \underline{\quad}$$

$$1 \cdot 4 = \underline{\quad}$$

$$2 \cdot 2 = \underline{\quad}$$

$$1 \cdot 8 = \underline{\quad}$$

$$5 \cdot 3 = \underline{\quad}$$

$$10 \cdot 9 = \underline{\quad}$$



5

$$10 \cdot 2 = \underline{\quad}$$

$$5 \cdot 4 = \underline{\quad}$$

$$5 \cdot 9 = \underline{\quad}$$

$$2 \cdot 7 = \underline{\quad}$$

$$1 \cdot 6 = \underline{\quad}$$

$$5 \cdot 10 = \underline{\quad}$$

6

$$2 \cdot 4 = \underline{\quad}$$

$$1 \cdot 3 = \underline{\quad}$$

$$5 \cdot 5 = \underline{\quad}$$

$$10 \cdot 1 = \underline{\quad}$$

$$2 \cdot 6 = \underline{\quad}$$

$$5 \cdot 9 = \underline{\quad}$$

Ich habe in ___ Minuten ___ Aufgaben geschafft.

Das finde ich:



Das Einmaleins mit 1, 5 und 10 (1)



1

$$1 \cdot 1 = \underline{\quad}$$

$$2 \cdot 1 = \underline{\quad}$$

$$3 \cdot 1 = \underline{\quad}$$

$$4 \cdot 1 = \underline{\quad}$$

$$5 \cdot 1 = \underline{\quad}$$

$$6 \cdot 1 = \underline{\quad}$$

$$7 \cdot 1 = \underline{\quad}$$

$$8 \cdot 1 = \underline{\quad}$$

$$9 \cdot 1 = \underline{\quad}$$

$$10 \cdot 1 = \underline{\quad}$$

2

$$1 \cdot 5 = \underline{\quad}$$

$$2 \cdot 5 = \underline{\quad}$$

$$3 \cdot 5 = \underline{\quad}$$

$$4 \cdot 5 = \underline{\quad}$$

$$5 \cdot 5 = \underline{\quad}$$

$$6 \cdot 5 = \underline{\quad}$$

$$7 \cdot 5 = \underline{\quad}$$

$$8 \cdot 5 = \underline{\quad}$$

$$9 \cdot 5 = \underline{\quad}$$

$$10 \cdot 5 = \underline{\quad}$$

3

$$1 \cdot 10 = \underline{\quad}$$

$$2 \cdot 10 = \underline{\quad}$$

$$3 \cdot 10 = \underline{\quad}$$

$$4 \cdot 10 = \underline{\quad}$$

$$5 \cdot 10 = \underline{\quad}$$

$$6 \cdot 10 = \underline{\quad}$$

$$7 \cdot 10 = \underline{\quad}$$

$$8 \cdot 10 = \underline{\quad}$$

$$9 \cdot 10 = \underline{\quad}$$

$$10 \cdot 10 = \underline{\quad}$$

Ich habe in ___ Minuten ___ Aufgaben geschafft.

Das finde ich:





Das Einmaleins mit 1, 5 und 10 (2)

1

$$\begin{aligned}
 3 \cdot 1 &= \underline{\quad} \\
 6 \cdot 1 &= \underline{\quad} \\
 1 \cdot 1 &= \underline{\quad} \\
 5 \cdot 1 &= \underline{\quad} \\
 7 \cdot 1 &= \underline{\quad} \\
 4 \cdot 1 &= \underline{\quad} \\
 6 \cdot 1 &= \underline{\quad} \\
 10 \cdot 1 &= \underline{\quad} \\
 2 \cdot 1 &= \underline{\quad} \\
 8 \cdot 1 &= \underline{\quad}
 \end{aligned}$$

2

$$\begin{aligned}
 5 \cdot 5 &= \underline{\quad} \\
 9 \cdot 5 &= \underline{\quad} \\
 6 \cdot 5 &= \underline{\quad} \\
 2 \cdot 5 &= \underline{\quad} \\
 10 \cdot 5 &= \underline{\quad} \\
 7 \cdot 5 &= \underline{\quad} \\
 4 \cdot 5 &= \underline{\quad} \\
 1 \cdot 5 &= \underline{\quad} \\
 8 \cdot 5 &= \underline{\quad} \\
 3 \cdot 5 &= \underline{\quad}
 \end{aligned}$$



3

$$\begin{aligned}
 7 \cdot 10 &= \underline{\quad} \\
 4 \cdot 10 &= \underline{\quad} \\
 6 \cdot 10 &= \underline{\quad} \\
 10 \cdot 10 &= \underline{\quad} \\
 3 \cdot 10 &= \underline{\quad} \\
 5 \cdot 10 &= \underline{\quad} \\
 1 \cdot 10 &= \underline{\quad} \\
 2 \cdot 10 &= \underline{\quad} \\
 8 \cdot 10 &= \underline{\quad} \\
 9 \cdot 10 &= \underline{\quad}
 \end{aligned}$$

Ich habe in ___ Minuten ___ Aufgaben geschafft.

Das finde ich:



Das Einmaleins mit 1, 5 und 10 (3)

1

$$\begin{aligned}
 9 \cdot 1 &= \underline{\quad} \\
 8 \cdot 10 &= \underline{\quad} \\
 1 \cdot 5 &= \underline{\quad} \\
 8 \cdot 1 &= \underline{\quad} \\
 5 \cdot 1 &= \underline{\quad}
 \end{aligned}$$

2

$$\begin{aligned}
 7 \cdot 5 &= \underline{\quad} \\
 4 \cdot 1 &= \underline{\quad} \\
 1 \cdot 10 &= \underline{\quad} \\
 7 \cdot 1 &= \underline{\quad} \\
 9 \cdot 10 &= \underline{\quad}
 \end{aligned}$$

3

$$\begin{aligned}
 10 \cdot 10 &= \underline{\quad} \\
 3 \cdot 1 &= \underline{\quad} \\
 4 \cdot 10 &= \underline{\quad} \\
 2 \cdot 5 &= \underline{\quad} \\
 6 \cdot 5 &= \underline{\quad}
 \end{aligned}$$

4

$$\begin{aligned}
 7 \cdot 10 &= \underline{\quad} \\
 3 \cdot 5 &= \underline{\quad} \\
 10 \cdot 5 &= \underline{\quad} \\
 2 \cdot 10 &= \underline{\quad} \\
 8 \cdot 5 &= \underline{\quad}
 \end{aligned}$$

5

$$\begin{aligned}
 3 \cdot 10 &= \underline{\quad} \\
 6 \cdot 10 &= \underline{\quad} \\
 4 \cdot 5 &= \underline{\quad} \\
 1 \cdot 1 &= \underline{\quad} \\
 9 \cdot 5 &= \underline{\quad}
 \end{aligned}$$



6

$$\begin{aligned}
 10 \cdot 1 &= \underline{\quad} \\
 6 \cdot 1 &= \underline{\quad} \\
 5 \cdot 10 &= \underline{\quad} \\
 5 \cdot 5 &= \underline{\quad} \\
 2 \cdot 1 &= \underline{\quad}
 \end{aligned}$$

Ich habe in ___ Minuten ___ Aufgaben geschafft.

Das finde ich:





Das Einmaleins mit 1, 5 und 10 (4)

1

$$8 \cdot \underline{\quad} = 40$$

$$2 \cdot \underline{\quad} = 2$$

$$9 \cdot \underline{\quad} = 45$$

$$3 \cdot \underline{\quad} = 15$$

$$5 \cdot \underline{\quad} = 50$$

2

$$1 \cdot \underline{\quad} = 5$$

$$10 \cdot \underline{\quad} = 10$$

$$6 \cdot \underline{\quad} = 30$$

$$9 \cdot \underline{\quad} = 9$$

$$7 \cdot \underline{\quad} = 70$$

3

$$5 \cdot \underline{\quad} = 5$$

$$4 \cdot \underline{\quad} = 40$$

$$3 \cdot \underline{\quad} = 3$$

$$2 \cdot \underline{\quad} = 10$$

$$1 \cdot \underline{\quad} = 1$$

4

$$1 \cdot \underline{\quad} = 10$$

$$7 \cdot \underline{\quad} = 35$$

$$6 \cdot \underline{\quad} = 60$$

$$4 \cdot \underline{\quad} = 20$$

$$8 \cdot \underline{\quad} = 8$$



5

$$8 \cdot \underline{\quad} = 80$$

$$10 \cdot \underline{\quad} = 100$$

$$7 \cdot \underline{\quad} = 7$$

$$9 \cdot \underline{\quad} = 90$$

$$3 \cdot \underline{\quad} = 30$$

6

$$6 \cdot \underline{\quad} = 6$$

$$4 \cdot \underline{\quad} = 4$$


$$5 \cdot \underline{\quad} = 25$$

$$10 \cdot \underline{\quad} = 50$$

$$2 \cdot \underline{\quad} = 20$$

Ich habe in ___ Minuten ___ Aufgaben geschafft.

Das finde ich:



Das Einmaleins mit 1, 5 und 10 (5)



1

$$\underline{\quad} \cdot 5 = 20$$

$$\underline{\quad} \cdot 1 = 7$$

$$\underline{\quad} \cdot 10 = 70$$

$$\underline{\quad} \cdot 5 = 35$$

$$\underline{\quad} \cdot 1 = 5$$

2

$$\underline{\quad} \cdot 10 = 60$$

$$\underline{\quad} \cdot 5 = 40$$

$$\underline{\quad} \cdot 1 = 4$$

$$\underline{\quad} \cdot 10 = 30$$

$$\underline{\quad} \cdot 5 = 5$$

3

$$\underline{\quad} \cdot 5 = 10$$

$$\underline{\quad} \cdot 1 = 3$$

$$\underline{\quad} \cdot 5 = 30$$

$$\underline{\quad} \cdot 1 = 10$$

$$\underline{\quad} \cdot 10 = 50$$

4

$$\underline{\quad} \cdot 10 = 40$$

$$\underline{\quad} \cdot 5 = 50$$

$$\underline{\quad} \cdot 1 = 6$$

$$\underline{\quad} \cdot 10 = 80$$

$$\underline{\quad} \cdot 5 = 15$$



5

$$\underline{\quad} \cdot 10 = 20$$

$$\underline{\quad} \cdot 1 = 8$$

$$\underline{\quad} \cdot 5 = 45$$

$$\underline{\quad} \cdot 10 = 90$$

$$\underline{\quad} \cdot 1 = 1$$

6

$$\underline{\quad} \cdot 10 = 10$$

$$\underline{\quad} \cdot 5 = 25$$

$$\underline{\quad} \cdot 1 = 2$$

$$\underline{\quad} \cdot 10 = 100$$

$$\underline{\quad} \cdot 1 = 9$$

Ich habe in ___ Minuten ___ Aufgaben geschafft.

Das finde ich:



Das Einmaleins mit 2, 4 und 8 (1)



1

$$\begin{aligned} 1 \cdot 2 &= \underline{\quad} \\ 2 \cdot 2 &= \underline{\quad} \\ 3 \cdot 2 &= \underline{\quad} \\ 4 \cdot 2 &= \underline{\quad} \\ 5 \cdot 2 &= \underline{\quad} \\ 6 \cdot 2 &= \underline{\quad} \\ 7 \cdot 2 &= \underline{\quad} \\ 8 \cdot 2 &= \underline{\quad} \\ 9 \cdot 2 &= \underline{\quad} \\ 10 \cdot 2 &= \underline{\quad} \end{aligned}$$

2

$$\begin{aligned} 1 \cdot 4 &= \underline{\quad} \\ 2 \cdot 4 &= \underline{\quad} \\ 3 \cdot 4 &= \underline{\quad} \\ 4 \cdot 4 &= \underline{\quad} \\ 5 \cdot 4 &= \underline{\quad} \\ 6 \cdot 4 &= \underline{\quad} \\ 7 \cdot 4 &= \underline{\quad} \\ 8 \cdot 4 &= \underline{\quad} \\ 9 \cdot 4 &= \underline{\quad} \\ 10 \cdot 4 &= \underline{\quad} \end{aligned}$$

3

$$\begin{aligned} 1 \cdot 8 &= \underline{\quad} \\ 2 \cdot 8 &= \underline{\quad} \\ 3 \cdot 8 &= \underline{\quad} \\ 4 \cdot 8 &= \underline{\quad} \\ 5 \cdot 8 &= \underline{\quad} \\ 6 \cdot 8 &= \underline{\quad} \\ 7 \cdot 8 &= \underline{\quad} \\ 8 \cdot 8 &= \underline{\quad} \\ 9 \cdot 8 &= \underline{\quad} \\ 10 \cdot 8 &= \underline{\quad} \end{aligned}$$

Ich habe in ___ Minuten ___ Aufgaben geschafft.

Das finde ich:



Das Einmaleins mit 2, 4 und 8 (2)



1

$$\begin{aligned} 3 \cdot 2 &= \underline{\quad} \\ 6 \cdot 2 &= \underline{\quad} \\ 1 \cdot 2 &= \underline{\quad} \\ 4 \cdot 2 &= \underline{\quad} \\ 7 \cdot 2 &= \underline{\quad} \\ 5 \cdot 2 &= \underline{\quad} \\ 6 \cdot 2 &= \underline{\quad} \\ 10 \cdot 2 &= \underline{\quad} \\ 2 \cdot 2 &= \underline{\quad} \\ 8 \cdot 2 &= \underline{\quad} \end{aligned}$$



2

$$\begin{aligned} 5 \cdot 4 &= \underline{\quad} \\ 8 \cdot 4 &= \underline{\quad} \\ 6 \cdot 4 &= \underline{\quad} \\ 2 \cdot 4 &= \underline{\quad} \\ 10 \cdot 4 &= \underline{\quad} \\ 7 \cdot 4 &= \underline{\quad} \\ 3 \cdot 4 &= \underline{\quad} \\ 1 \cdot 4 &= \underline{\quad} \\ 9 \cdot 4 &= \underline{\quad} \\ 4 \cdot 4 &= \underline{\quad} \end{aligned}$$

3

$$\begin{aligned} 7 \cdot 8 &= \underline{\quad} \\ 4 \cdot 8 &= \underline{\quad} \\ 8 \cdot 8 &= \underline{\quad} \\ 10 \cdot 8 &= \underline{\quad} \\ 3 \cdot 8 &= \underline{\quad} \\ 5 \cdot 8 &= \underline{\quad} \\ 1 \cdot 8 &= \underline{\quad} \\ 2 \cdot 8 &= \underline{\quad} \\ 6 \cdot 8 &= \underline{\quad} \\ 9 \cdot 8 &= \underline{\quad} \end{aligned}$$

Ich habe in ___ Minuten ___ Aufgaben geschafft.

Das finde ich:





Das Einmaleins mit 2, 4 und 8 (3)

1

$$9 \cdot 2 = \underline{\quad}$$

$$8 \cdot 4 = \underline{\quad}$$

$$1 \cdot 8 = \underline{\quad}$$

$$8 \cdot 2 = \underline{\quad}$$

$$5 \cdot 2 = \underline{\quad}$$

2

$$7 \cdot 8 = \underline{\quad}$$

$$4 \cdot 2 = \underline{\quad}$$

$$1 \cdot 4 = \underline{\quad}$$

$$7 \cdot 2 = \underline{\quad}$$

$$9 \cdot 4 = \underline{\quad}$$

3

$$10 \cdot 4 = \underline{\quad}$$

$$3 \cdot 2 = \underline{\quad}$$

$$4 \cdot 4 = \underline{\quad}$$

$$2 \cdot 8 = \underline{\quad}$$

$$6 \cdot 8 = \underline{\quad}$$

4

$$7 \cdot 4 = \underline{\quad}$$

$$3 \cdot 8 = \underline{\quad}$$

$$10 \cdot 8 = \underline{\quad}$$

$$2 \cdot 4 = \underline{\quad}$$

$$8 \cdot 8 = \underline{\quad}$$

5

$$3 \cdot 4 = \underline{\quad}$$

$$6 \cdot 4 = \underline{\quad}$$

$$4 \cdot 8 = \underline{\quad}$$

$$1 \cdot 2 = \underline{\quad}$$

$$9 \cdot 8 = \underline{\quad}$$



6

$$10 \cdot 2 = \underline{\quad}$$

$$6 \cdot 2 = \underline{\quad}$$


$$5 \cdot 4 = \underline{\quad}$$

$$5 \cdot 8 = \underline{\quad}$$

$$2 \cdot 2 = \underline{\quad}$$

Ich habe in ___ Minuten ___ Aufgaben geschafft.

Das finde ich:



Das Einmaleins mit 2, 4 und 8 (4)



1

$$8 \cdot \underline{\quad} = 36$$

$$2 \cdot \underline{\quad} = 4$$

$$9 \cdot \underline{\quad} = 72$$

$$3 \cdot \underline{\quad} = 24$$

$$5 \cdot \underline{\quad} = 40$$

2

$$1 \cdot \underline{\quad} = 2$$

$$10 \cdot \underline{\quad} = 20$$

$$6 \cdot \underline{\quad} = 24$$

$$9 \cdot \underline{\quad} = 36$$

$$7 \cdot \underline{\quad} = 28$$

3

$$5 \cdot \underline{\quad} = 20$$

$$4 \cdot \underline{\quad} = 32$$

$$3 \cdot \underline{\quad} = 12$$

$$2 \cdot \underline{\quad} = 8$$

$$1 \cdot \underline{\quad} = 4$$

4

$$1 \cdot \underline{\quad} = 8$$

$$7 \cdot \underline{\quad} = 56$$

$$6 \cdot \underline{\quad} = 48$$

$$4 \cdot \underline{\quad} = 16$$

$$8 \cdot \underline{\quad} = 64$$

5

$$8 \cdot \underline{\quad} = 16$$

$$10 \cdot \underline{\quad} = 40$$

$$7 \cdot \underline{\quad} = 4$$

$$9 \cdot \underline{\quad} = 18$$

$$3 \cdot \underline{\quad} = 6$$



6

$$6 \cdot \underline{\quad} = 12$$

$$4 \cdot \underline{\quad} = 8$$

$$5 \cdot \underline{\quad} = 10$$

$$10 \cdot \underline{\quad} = 80$$

$$2 \cdot \underline{\quad} = 16$$

Ich habe in ___ Minuten ___ Aufgaben geschafft.

Das finde ich:



Das Einmaleins mit 2, 4 und 8 (5)



1

$$\begin{aligned} \underline{\quad} \cdot 4 &= 16 \\ \underline{\quad} \cdot 8 &= 16 \\ \underline{\quad} \cdot 2 &= 4 \\ \underline{\quad} \cdot 4 &= 28 \\ \underline{\quad} \cdot 8 &= 40 \end{aligned}$$

2

$$\begin{aligned} \underline{\quad} \cdot 2 &= 8 \\ \underline{\quad} \cdot 4 &= 40 \\ \underline{\quad} \cdot 8 &= 56 \\ \underline{\quad} \cdot 2 &= 12 \\ \underline{\quad} \cdot 4 &= 32 \end{aligned}$$

3

$$\begin{aligned} \underline{\quad} \cdot 4 &= 24 \\ \underline{\quad} \cdot 8 &= 64 \\ \underline{\quad} \cdot 4 &= 36 \\ \underline{\quad} \cdot 8 &= 48 \\ \underline{\quad} \cdot 2 &= 50 \end{aligned}$$

4

$$\begin{aligned} \underline{\quad} \cdot 2 &= 14 \\ \underline{\quad} \cdot 4 &= 12 \\ \underline{\quad} \cdot 8 &= 6 \\ \underline{\quad} \cdot 2 &= 6 \\ \underline{\quad} \cdot 4 &= 20 \end{aligned}$$

5

$$\begin{aligned} \underline{\quad} \cdot 2 &= 20 \\ \underline{\quad} \cdot 8 &= 24 \\ \underline{\quad} \cdot 4 &= 8 \\ \underline{\quad} \cdot 2 &= 16 \\ \underline{\quad} \cdot 8 &= 80 \end{aligned}$$

6

$$\begin{aligned} \underline{\quad} \cdot 2 &= 10 \\ \underline{\quad} \cdot 4 &= 4 \\ \underline{\quad} \cdot 8 &= 32 \\ \underline{\quad} \cdot 2 &= 2 \\ \underline{\quad} \cdot 8 &= 72 \end{aligned}$$



Ich habe in ___ Minuten ___ Aufgaben geschafft.

Das finde ich:



Das Einmaleins mit 3, 6 und 9 (1)



1

$$\begin{aligned} 1 \cdot 3 &= \underline{\quad} \\ 2 \cdot 3 &= \underline{\quad} \\ 3 \cdot 3 &= \underline{\quad} \\ 4 \cdot 3 &= \underline{\quad} \\ 5 \cdot 3 &= \underline{\quad} \\ 6 \cdot 3 &= \underline{\quad} \\ 7 \cdot 3 &= \underline{\quad} \\ 8 \cdot 3 &= \underline{\quad} \\ 9 \cdot 3 &= \underline{\quad} \\ 10 \cdot 3 &= \underline{\quad} \end{aligned}$$

2

$$\begin{aligned} 1 \cdot 6 &= \underline{\quad} \\ 2 \cdot 6 &= \underline{\quad} \\ 3 \cdot 6 &= \underline{\quad} \\ 4 \cdot 6 &= \underline{\quad} \\ 5 \cdot 6 &= \underline{\quad} \\ 6 \cdot 6 &= \underline{\quad} \\ 7 \cdot 6 &= \underline{\quad} \\ 8 \cdot 6 &= \underline{\quad} \\ 9 \cdot 6 &= \underline{\quad} \\ 10 \cdot 6 &= \underline{\quad} \end{aligned}$$

3

$$\begin{aligned} 1 \cdot 9 &= \underline{\quad} \\ 2 \cdot 9 &= \underline{\quad} \\ 3 \cdot 9 &= \underline{\quad} \\ 4 \cdot 9 &= \underline{\quad} \\ 5 \cdot 9 &= \underline{\quad} \\ 6 \cdot 9 &= \underline{\quad} \\ 7 \cdot 9 &= \underline{\quad} \\ 8 \cdot 9 &= \underline{\quad} \\ 9 \cdot 9 &= \underline{\quad} \\ 10 \cdot 9 &= \underline{\quad} \end{aligned}$$



Ich habe in ___ Minuten ___ Aufgaben geschafft.

Das finde ich:





Das Einmaleins mit 3, 6 und 9 (2)

1

$$3 \cdot 3 = \underline{\quad}$$

$$6 \cdot 3 = \underline{\quad}$$

$$1 \cdot 3 = \underline{\quad}$$

$$4 \cdot 3 = \underline{\quad}$$

$$7 \cdot 3 = \underline{\quad}$$

$$5 \cdot 3 = \underline{\quad}$$

$$6 \cdot 3 = \underline{\quad}$$

$$10 \cdot 3 = \underline{\quad}$$

$$2 \cdot 3 = \underline{\quad}$$

$$8 \cdot 3 = \underline{\quad}$$

2

$$5 \cdot 6 = \underline{\quad}$$

$$8 \cdot 6 = \underline{\quad}$$

$$6 \cdot 6 = \underline{\quad}$$

$$2 \cdot 6 = \underline{\quad}$$

$$10 \cdot 6 = \underline{\quad}$$

$$7 \cdot 6 = \underline{\quad}$$

$$3 \cdot 6 = \underline{\quad}$$

$$1 \cdot 6 = \underline{\quad}$$

$$9 \cdot 6 = \underline{\quad}$$

$$4 \cdot 6 = \underline{\quad}$$

3

$$7 \cdot 9 = \underline{\quad}$$

$$4 \cdot 9 = \underline{\quad}$$

$$8 \cdot 9 = \underline{\quad}$$

$$10 \cdot 9 = \underline{\quad}$$

$$3 \cdot 9 = \underline{\quad}$$

$$5 \cdot 9 = \underline{\quad}$$

$$1 \cdot 9 = \underline{\quad}$$

$$2 \cdot 9 = \underline{\quad}$$

$$6 \cdot 9 = \underline{\quad}$$

$$9 \cdot 9 = \underline{\quad}$$

Ich habe in ___ Minuten ___ Aufgaben geschafft.

Das finde ich:



Das Einmaleins mit 3, 6 und 9 (3)

1

$$9 \cdot 9 = \underline{\quad}$$

$$8 \cdot 3 = \underline{\quad}$$

$$1 \cdot 6 = \underline{\quad}$$

$$8 \cdot 9 = \underline{\quad}$$

$$5 \cdot 9 = \underline{\quad}$$

2

$$7 \cdot 6 = \underline{\quad}$$

$$4 \cdot 9 = \underline{\quad}$$

$$1 \cdot 3 = \underline{\quad}$$

$$7 \cdot 9 = \underline{\quad}$$

$$9 \cdot 3 = \underline{\quad}$$

3

$$10 \cdot 3 = \underline{\quad}$$

$$3 \cdot 9 = \underline{\quad}$$

$$4 \cdot 3 = \underline{\quad}$$

$$2 \cdot 6 = \underline{\quad}$$

$$6 \cdot 6 = \underline{\quad}$$

4

$$7 \cdot 3 = \underline{\quad}$$

$$3 \cdot 6 = \underline{\quad}$$

$$10 \cdot 6 = \underline{\quad}$$

$$2 \cdot 3 = \underline{\quad}$$

$$8 \cdot 6 = \underline{\quad}$$

5



$$3 \cdot 3 = \underline{\quad}$$

$$6 \cdot 3 = \underline{\quad}$$

$$4 \cdot 6 = \underline{\quad}$$

$$1 \cdot 9 = \underline{\quad}$$

$$9 \cdot 6 = \underline{\quad}$$

6

$$10 \cdot 9 = \underline{\quad}$$

$$6 \cdot 9 = \underline{\quad}$$

$$5 \cdot 3 = \underline{\quad}$$

$$5 \cdot 6 = \underline{\quad}$$

$$2 \cdot 9 = \underline{\quad}$$

Ich habe in ___ Minuten ___ Aufgaben geschafft.

Das finde ich:





Das Einmaleins mit 3, 6 und 9 (4)

1

$$8 \cdot \underline{\quad} = 24$$

$$2 \cdot \underline{\quad} = 18$$

$$9 \cdot \underline{\quad} = 81$$

$$3 \cdot \underline{\quad} = 27$$

$$5 \cdot \underline{\quad} = 30$$

2

$$1 \cdot \underline{\quad} = 3$$

$$10 \cdot \underline{\quad} = 60$$

$$6 \cdot \underline{\quad} = 18$$

$$9 \cdot \underline{\quad} = 54$$

$$7 \cdot \underline{\quad} = 21$$

3

$$5 \cdot \underline{\quad} = 45$$

$$4 \cdot \underline{\quad} = 24$$

$$3 \cdot \underline{\quad} = 18$$

$$2 \cdot \underline{\quad} = 12$$

$$1 \cdot \underline{\quad} = 6$$

4

$$1 \cdot \underline{\quad} = 18$$

$$7 \cdot \underline{\quad} = 63$$

$$6 \cdot \underline{\quad} = 36$$

$$4 \cdot \underline{\quad} = 12$$

$$8 \cdot \underline{\quad} = 72$$



5

$$8 \cdot \underline{\quad} = 48$$

$$10 \cdot \underline{\quad} = 30$$

$$7 \cdot \underline{\quad} = 42$$

$$9 \cdot \underline{\quad} = 27$$

$$3 \cdot \underline{\quad} = 9$$

6

$$6 \cdot \underline{\quad} = 54$$

$$4 \cdot \underline{\quad} = 36$$


$$5 \cdot \underline{\quad} = 15$$

$$10 \cdot \underline{\quad} = 90$$

$$2 \cdot \underline{\quad} = 6$$

Ich habe in ___ Minuten ___ Aufgaben geschafft.

Das finde ich:



Das Einmaleins mit 3, 6 und 9 (5)

1

$$\underline{\quad} \cdot 3 = 21$$

$$\underline{\quad} \cdot 6 = 60$$

$$\underline{\quad} \cdot 9 = 27$$

$$\underline{\quad} \cdot 3 = 27$$

$$\underline{\quad} \cdot 6 = 18$$

2

$$\underline{\quad} \cdot 9 = 45$$

$$\underline{\quad} \cdot 3 = 15$$

$$\underline{\quad} \cdot 6 = 6$$

$$\underline{\quad} \cdot 9 = 18$$

$$\underline{\quad} \cdot 3 = 6$$

3

$$\underline{\quad} \cdot 3 = 24$$

$$\underline{\quad} \cdot 6 = 30$$

$$\underline{\quad} \cdot 3 = 12$$

$$\underline{\quad} \cdot 6 = 54$$

$$\underline{\quad} \cdot 9 = 54$$

4

$$\underline{\quad} \cdot 9 = 36$$

$$\underline{\quad} \cdot 3 = 9$$

$$\underline{\quad} \cdot 6 = 42$$

$$\underline{\quad} \cdot 9 = 63$$

$$\underline{\quad} \cdot 3 = 30$$



5

$$\underline{\quad} \cdot 9 = 90$$

$$\underline{\quad} \cdot 6 = 12$$

$$\underline{\quad} \cdot 3 = 18$$

$$\underline{\quad} \cdot 9 = 72$$

$$\underline{\quad} \cdot 6 = 24$$

6

$$\underline{\quad} \cdot 9 = 81$$

$$\underline{\quad} \cdot 3 = 3$$

$$\underline{\quad} \cdot 6 = 36$$

$$\underline{\quad} \cdot 9 = 9$$

$$\underline{\quad} \cdot 6 = 48$$

Ich habe in ___ Minuten ___ Aufgaben geschafft.

Das finde ich:



Das Einmaleins mit 7 (1)



1

$$\begin{aligned} 1 \cdot 7 &= \underline{\quad} \\ 2 \cdot 7 &= \underline{\quad} \\ 3 \cdot 7 &= \underline{\quad} \\ 4 \cdot 7 &= \underline{\quad} \\ 5 \cdot 7 &= \underline{\quad} \\ 6 \cdot 7 &= \underline{\quad} \\ 7 \cdot 7 &= \underline{\quad} \\ 8 \cdot 7 &= \underline{\quad} \\ 9 \cdot 7 &= \underline{\quad} \\ 10 \cdot 7 &= \underline{\quad} \end{aligned}$$

2

$$\begin{aligned} 6 \cdot 7 &= \underline{\quad} \\ 3 \cdot 7 &= \underline{\quad} \\ 5 \cdot 7 &= \underline{\quad} \\ 9 \cdot 7 &= \underline{\quad} \\ 4 \cdot 7 &= \underline{\quad} \\ 8 \cdot 7 &= \underline{\quad} \\ 1 \cdot 7 &= \underline{\quad} \\ 10 \cdot 7 &= \underline{\quad} \\ 2 \cdot 7 &= \underline{\quad} \\ 7 \cdot 7 &= \underline{\quad} \end{aligned}$$

3

$$\begin{aligned} \underline{\quad} \cdot 7 &= 35 \\ 7 \cdot \underline{\quad} &= 70 \\ \underline{\quad} \cdot 7 &= 14 \\ 7 \cdot \underline{\quad} &= 28 \\ \underline{\quad} \cdot 7 &= 49 \\ 7 \cdot \underline{\quad} &= 42 \\ \underline{\quad} \cdot 7 &= 7 \\ 7 \cdot \underline{\quad} &= 63 \\ \underline{\quad} \cdot 7 &= 21 \\ 7 \cdot \underline{\quad} &= 56 \end{aligned}$$

Ich habe in Minuten Aufgaben geschafft.

Das finde ich:



Einmaleins -Aufgaben (alle Reihen) (1)



1

$$\begin{aligned} 5 \cdot 6 &= \underline{\quad} \\ 8 \cdot 7 &= \underline{\quad} \\ 9 \cdot 9 &= \underline{\quad} \\ 4 \cdot 2 &= \underline{\quad} \\ 4 \cdot 6 &= \underline{\quad} \end{aligned}$$

2

$$\begin{aligned} 9 \cdot 2 &= \underline{\quad} \\ 4 \cdot 3 &= \underline{\quad} \\ 9 \cdot 5 &= \underline{\quad} \\ 5 \cdot 8 &= \underline{\quad} \\ 9 \cdot 3 &= \underline{\quad} \end{aligned}$$

3

$$\begin{aligned} 10 \cdot 3 &= \underline{\quad} \\ 1 \cdot 4 &= \underline{\quad} \\ 9 \cdot 4 &= \underline{\quad} \\ 10 \cdot 6 &= \underline{\quad} \\ 3 \cdot 7 &= \underline{\quad} \end{aligned}$$

4

$$\begin{aligned} 7 \cdot 7 &= \underline{\quad} \\ 3 \cdot 3 &= \underline{\quad} \\ 10 \cdot 9 &= \underline{\quad} \\ 8 \cdot 8 &= \underline{\quad} \\ 4 \cdot 7 &= \underline{\quad} \end{aligned}$$

5



$$\begin{aligned} 2 \cdot 4 &= \underline{\quad} \\ 3 \cdot 5 &= \underline{\quad} \\ 7 \cdot 7 &= \underline{\quad} \\ 7 \cdot 2 &= \underline{\quad} \\ 6 \cdot 8 &= \underline{\quad} \end{aligned}$$

6

$$\begin{aligned} 2 \cdot 2 &= \underline{\quad} \\ 7 \cdot 9 &= \underline{\quad} \\ 9 \cdot 8 &= \underline{\quad} \\ 8 \cdot 3 &= \underline{\quad} \\ 2 \cdot 6 &= \underline{\quad} \end{aligned}$$

Ich habe in Minuten Aufgaben geschafft.

Das finde ich:





Einmaleins -Aufgaben (alle Reihen) (2)

1

$$1 \cdot 2 = \underline{\quad}$$

$$7 \cdot 8 = \underline{\quad}$$

$$3 \cdot 6 = \underline{\quad}$$

$$2 \cdot 5 = \underline{\quad}$$

$$8 \cdot 9 = \underline{\quad}$$

2

$$6 \cdot 7 = \underline{\quad}$$

$$1 \cdot 6 = \underline{\quad}$$

$$8 \cdot 2 = \underline{\quad}$$

$$4 \cdot 7 = \underline{\quad}$$

$$6 \cdot 4 = \underline{\quad}$$

3

$$7 \cdot 6 = \underline{\quad}$$

$$3 \cdot 9 = \underline{\quad}$$

$$2 \cdot 3 = \underline{\quad}$$

$$10 \cdot 7 = \underline{\quad}$$

$$8 \cdot 8 = \underline{\quad}$$

4

$$10 \cdot 9 = \underline{\quad}$$

$$6 \cdot 2 = \underline{\quad}$$

$$5 \cdot 5 = \underline{\quad}$$

$$4 \cdot 6 = \underline{\quad}$$

$$10 \cdot 3 = \underline{\quad}$$



5

$$4 \cdot 2 = \underline{\quad}$$

$$5 \cdot 3 = \underline{\quad}$$

$$7 \cdot 3 = \underline{\quad}$$

$$5 \cdot 9 = \underline{\quad}$$

$$3 \cdot 1 = \underline{\quad}$$

6

$$6 \cdot 3 = \underline{\quad}$$

$$8 \cdot 6 = \underline{\quad}$$

$$5 \cdot 7 = \underline{\quad}$$

$$7 \cdot 4 = \underline{\quad}$$

$$6 \cdot 9 = \underline{\quad}$$

Ich habe in ___ Minuten ___ Aufgaben geschafft.

Das finde ich:



Einmaleins -Aufgaben (alle Reihen) (3)



1

$$9 \cdot 6 = \underline{\quad}$$

$$4 \cdot 9 = \underline{\quad}$$

$$5 \cdot 2 = \underline{\quad}$$

$$6 \cdot 3 = \underline{\quad}$$

$$2 \cdot 8 = \underline{\quad}$$

2

$$8 \cdot 5 = \underline{\quad}$$

$$3 \cdot 8 = \underline{\quad}$$

$$6 \cdot 7 = \underline{\quad}$$

$$5 \cdot 5 = \underline{\quad}$$

$$9 \cdot 7 = \underline{\quad}$$

3

$$2 \cdot 7 = \underline{\quad}$$

$$3 \cdot 9 = \underline{\quad}$$

$$6 \cdot 5 = \underline{\quad}$$

$$3 \cdot 4 = \underline{\quad}$$

$$6 \cdot 6 = \underline{\quad}$$

4

$$8 \cdot 6 = \underline{\quad}$$

$$7 \cdot 5 = \underline{\quad}$$

$$5 \cdot 9 = \underline{\quad}$$

$$9 \cdot 2 = \underline{\quad}$$

$$4 \cdot 4 = \underline{\quad}$$



5

$$3 \cdot 2 = \underline{\quad}$$

$$4 \cdot 5 = \underline{\quad}$$

$$6 \cdot 9 = \underline{\quad}$$

$$5 \cdot 4 = \underline{\quad}$$

$$6 \cdot 5 = \underline{\quad}$$

6

$$6 \cdot 7 = \underline{\quad}$$

$$5 \cdot 3 = \underline{\quad}$$

$$2 \cdot 9 = \underline{\quad}$$

$$10 \cdot 3 = \underline{\quad}$$

$$4 \cdot 8 = \underline{\quad}$$

Ich habe in ___ Minuten ___ Aufgaben geschafft.

Das finde ich:



Einmaleins -Aufgaben (alle Reihen) (4)



1

$2 \cdot \underline{\quad} = 18$

$6 \cdot \underline{\quad} = 54$

$2 \cdot \underline{\quad} = 10$

$9 \cdot \underline{\quad} = 36$

$6 \cdot \underline{\quad} = 42$

2

$9 \cdot \underline{\quad} = 27$

$7 \cdot \underline{\quad} = 35$

$2 \cdot \underline{\quad} = 6$

$3 \cdot \underline{\quad} = 27$

$4 \cdot \underline{\quad} = 24$

3

$8 \cdot \underline{\quad} = 56$

$7 \cdot \underline{\quad} = 42$

$7 \cdot \underline{\quad} = 28$

$2 \cdot \underline{\quad} = 14$

$5 \cdot \underline{\quad} = 15$

4

$4 \cdot \underline{\quad} = 16$

$9 \cdot \underline{\quad} = 81$

$5 \cdot \underline{\quad} = 40$

$8 \cdot \underline{\quad} = 48$

$3 \cdot \underline{\quad} = 21$

5

$9 \cdot \underline{\quad} = 54$

$8 \cdot \underline{\quad} = 64$

$6 \cdot \underline{\quad} = 18$

$8 \cdot \underline{\quad} = 40$

$4 \cdot \underline{\quad} = 36$

6

$3 \cdot \underline{\quad} = 15$

$7 \cdot \underline{\quad} = 56$

$7 \cdot \underline{\quad} = 32$

$8 \cdot \underline{\quad} = 72$

$9 \cdot \underline{\quad} = 45$



Ich habe in ___ Minuten ___ Aufgaben geschafft.

Das finde ich:



Einmaleins -Aufgaben (alle Reihen) (5)



1

$\underline{\quad} \cdot 9 = 81$

$\underline{\quad} \cdot 3 = 27$

$\underline{\quad} \cdot 4 = 12$

$\underline{\quad} \cdot 5 = 15$

$\underline{\quad} \cdot 8 = 32$

2

$\underline{\quad} \cdot 4 = 32$

$\underline{\quad} \cdot 6 = 36$

$\underline{\quad} \cdot 9 = 72$

$\underline{\quad} \cdot 4 = 28$

$\underline{\quad} \cdot 7 = 63$

3

$\underline{\quad} \cdot 7 = 42$

$\underline{\quad} \cdot 8 = 24$

$\underline{\quad} \cdot 5 = 35$

$\underline{\quad} \cdot 8 = 56$

$\underline{\quad} \cdot 6 = 24$

4

$\underline{\quad} \cdot 6 = 42$

$\underline{\quad} \cdot 5 = 20$

$\underline{\quad} \cdot 8 = 64$

$\underline{\quad} \cdot 7 = 28$

$\underline{\quad} \cdot 5 = 45$

5

$\underline{\quad} \cdot 7 = 21$

$\underline{\quad} \cdot 5 = 25$

$\underline{\quad} \cdot 9 = 63$

$\underline{\quad} \cdot 4 = 16$

$\underline{\quad} \cdot 8 = 48$

6

$\underline{\quad} \cdot 9 = 54$

$\underline{\quad} \cdot 7 = 49$

$\underline{\quad} \cdot 6 = 48$

$\underline{\quad} \cdot 9 = 45$

$\underline{\quad} \cdot 6 = 30$



Ich habe in ___ Minuten ___ Aufgaben geschafft.

Das finde ich:

